





ESTIMULA LA MENTE. MEMORIA

RESPONDE A LAS SIGUIENTES PREGUNTAS SOBRE EL CAPÍTULO 2 Y 3 DE LA NOVELA ROBINSON CRUSOE. ACUÉRDATE QUE ANTES DEBES ESCUCHAR Y VER EL VÍDEO ATENTAMENTE.

¿CÚAL FUE EL SIGUIENTE DESTINO DEL CAPITÁN?

<p>A. MÉXICO</p>	
<p>B. BRASIL</p>	
<p>C. PARÍS</p>	
<p>D. IRLANDA</p>	




¿QUÉ PLANTARON PARA HACERSE CON UNA FORTUNA?

<p>A. CAFÉ</p>	
<p>B. FRESAS</p>	
<p>C. TABACO</p>	
<p>D. PLÁTANOS</p>	

¿EN QUÉ PAÍS SE PODÍA COMPRAR DIFERENTES ARTÍCULOS?

<p>A. GUINEA</p>	 <p>A map of West Africa with Guinea highlighted in orange. Neighboring countries shown include Senegal, Guinea-Bissau, Sierra Leone, Liberia, Mali, and Côte d'Ivoire. The capital, Conakry, is marked with a star. The North Atlantic Ocean is labeled at the bottom.</p>
<p>B. ECUADOR</p>	 <p>A map of Ecuador and surrounding regions. Ecuador is highlighted in yellow. Neighboring countries include Colombia to the north and Peru to the east. The Galapagos Islands are shown in the Pacific Ocean to the west. Major cities like Quito and Guayaquil are labeled. The Pacific Ocean is labeled vertically.</p>
<p>C. CANADÁ</p>	 <p>A map of Canada with its provinces and territories labeled: Yukon, Northwest Territories, Nunavut, British Columbia, Alberta, Saskatchewan, Manitoba, Ontario, Quebec, and Newfoundland and Labrador. The Canadian flag is shown in the top right corner.</p>
<p>D. ARGENTINA</p>	 <p>A map of South America with Argentina highlighted in orange. Neighboring countries include Chile to the west, Uruguay to the east, and Brazil to the north. Major cities like Buenos Aires and Montevideo are labeled. The Atlantic Ocean is visible to the east.</p>




¿DÓNDE ARROJÓ LA OLA A ROBINSON?

<p>A. UN TRONCO</p>			
<p>B. UNA BARCA</p>			
<p>C. UNA ROCA</p>			

¿QUÉ LLEVABA ENCIMA ROBINSON CUANDO SOBREVIVIÓ AL NAUFRAGIO?

<p>A. UN CUCHILLO, UNA PIPA Y TABACO</p>	
<p>B. UNA CUERDA Y UN PALO</p>	
<p>C. UN CUBO, UNA CAÑA E HILO</p>	
<p>D. UNA CERILLA, UN PAPIRO Y UNA BRÚJULA</p>	

**¿DE QUÉ SE LLENO LOS BOLSILLOS ROBINSON CUANDO PUDO
ACCEDER AL BARCO?**

<p>A. DE MIEL</p>	
<p>B. DE PATATAS</p>	
<p>C. DE BIZCOCHOS</p>	

**RODEA TODOS LOS ELEMENTOS QUE COGIÓ DEL BARCO.
PUEDES AYUDARTE VOLVIENDO A ESCUCHAR EL AUDIO.**



**¿QUÉ CONSTRUYÓ ROBINSON EN LAS ROCAS PARA
RESGUARDARSE?**

<p>A. UNA CABAÑA DE PAJA</p>	
<p>B. UNA CABAÑA DE BARRO</p>	
<p>C. UNA TIENDA DE CAMPAÑA</p>	